

.SHL.



Zaawansowana  
Seria Menedżerska

# Zaawansowana Seria Menedżerska

---

Zaawansowana Seria Menedżerska (AMT) została stworzona na potrzeby organizacji poszukujących nowoczesnego narzędzia badającego zdolności werbalne i numeryczne u swoich menedżerów, i kandydatów na stanowiska menedżerskie. Testy stworzono w taki sposób, aby odpowiadały wymaganiom biznesu, podejmując tematykę zawodową.

**W skład Zaawansowanej Serii Menedżerskiej wchodzi 3 testy zdolności:**

## **I. Ocena Danych Liczbowych NMT2**

Składa się z zadań numerycznych opartych na danych biznesowych (bilanse, plany finansowe, wykresy źródeł przychodu itp.), do rozwiązania każdego zadania należy wykorzystać informacje z dwóch lub trzech tabel czy wykresów. Ocenia zdolności rozwiązywania problemów liczbowych z zastosowaniem np. ułamków, procentów oraz wartości średnich.

## **II. Analiza Informacji Słownych VMT3**

Składa się z fragmentów różnych tekstów, po których następują pytania sprawdzające rozumienie informacji w nich poruszanych. Bada zdolność rozumienia, oceny, wnioskowania, logicznego myślenia oraz podsumowywania na podstawie informacji tekstowych.

## **III. Analiza Danych Liczbowych NMT4**

Składa się z zadań numerycznych opartych na danych biznesowych (bilanse, plany finansowe, wykresy źródeł przychodu itp.). Bada zdolność wyciągania poprawnych wniosków i podejmowania trafnych decyzji na podstawie danych liczbowych.

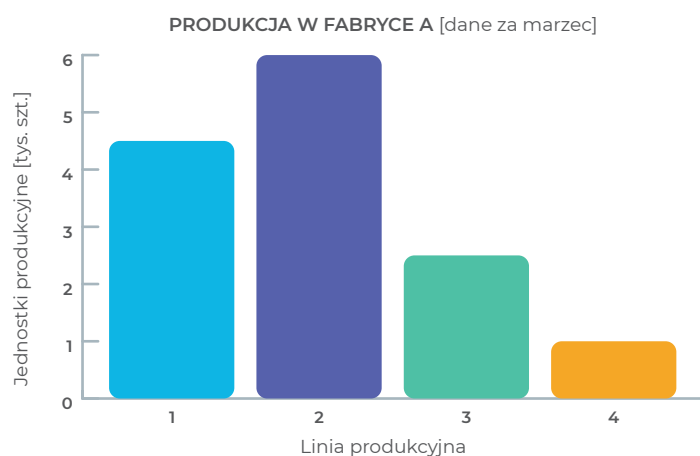
# Ocena Danych Liczbowych NMT2

1. Zesłotygodniowy rachunek za godziny nadliczbowe wyniósł 3 450 £. Za jedną nadgodzinę płaci się 4,60 £. Ile nadgodzin przepracowano?

- A. 76 godzin
- B. 87 godzin
- C. 133 godziny
- D. 750 godzin
- E. 766 godzin

2. Całkowita wartość rynku aparatów fotograficznych wynosi 639 mln £. Największych 8 firm skupia 71% rynku, a reszta jest równo podzielona między 4 mniejsze firmy. Jak duża jest przybliżona wartość rynku należąca do każdej z mniejszych firm?

- A. 200 000 £
- B. 470 000 £
- C. 1 800 000 £
- D. 4 800 000 £
- E. żadna z podanych



3. Jaka była średnia liczba wyprodukowanych w marcu jednostek z czterech linii produkcyjnych?

- A. 2 500
- B. 3 000
- C. 3 500
- D. 4 000
- E. 4 500

4. Jaki w przybliżeniu procent wszystkich jednostek wytworzonych w marcu stanowią wyroby 3. linii produkcyjnej?

- A. 18%
- B. 22%
- C. 26%
- D. 34%
- E. 39%

W tym teście należy wybrać poprawną odpowiedź z pięciu podanych możliwości dla każdego zadania. Wskaż poprawną odpowiedź poprzez zaczerwienie odpowiedniego kółka A, B, C, D lub E.

Możesz używać kalkulatora.

## Formularz odpowiedzi

1.	<input type="radio"/>	A	<input type="radio"/>	B	<input type="radio"/>	C	<input type="radio"/>	D	<input type="radio"/>	E
2.	<input type="radio"/>	A	<input type="radio"/>	B	<input type="radio"/>	C	<input type="radio"/>	D	<input type="radio"/>	E
3.	<input type="radio"/>	A	<input type="radio"/>	B	<input type="radio"/>	C	<input type="radio"/>	D	<input type="radio"/>	E
4.	<input type="radio"/>	A	<input type="radio"/>	B	<input type="radio"/>	C	<input type="radio"/>	D	<input type="radio"/>	E

# Analiza Informacji Słownych VMT3

W zarządzaniu finansami przedsiębiorstwa wiele potrzeb krótkoterminowych, a także niektóre z długoterminowych zaspokajanych jest przez zaciąganie pożyczek w bankach i innych instytucjach finansowych. Tak dzieje się w przypadku ogromnych spółek i małych przedsiębiorstw. W istocie udzielanie pożyczek dla handlu i przemysłu jest jednym z głównych elementów działania systemu bankowego. Chociaż takie pożyczki nie wymagają komentarza poza tym, że zaciąganie pożyczek krótkoterminowych jest zwykle kosztownym rozwiązaniem dla firm i dlatego preferują one długoterminowe metody pozyskiwania środków.

**1. Który (jeden) z następujących typów organizacji – według tekstu – często zaciąga pożyczki bankowe?**

- A. Sektor państwowy
- B. Instytucje finansowe
- C. Przemysł
- D. Sektor prywatny
- E. Organizacje zagraniczne

**2. Czy w tekście poruszono problem “czy pożyczki krótkoterminowe są zazwyczaj dla przedsiębiorstw kosztowne”?**

- A. Tak
- B. Nie

**3. Które dwa z poniższych stwierdzeń najwierniej oddają sens tekstu?**

- A. Różne przedsiębiorstwa pożyczają od banków i od innych instytucji finansowych
- B. Główną działalnością banków jest udzielanie pożyczek przedsiębiorstwom
- C. Największa liczba pożyczek to krótkoterminowe i dlatego są one drogie dla przedsiębiorstw
- D. I małe, i duże przedsiębiorstwa zaciągają pożyczki, a kosztowne bywają pożyczki krótkoterminowe
- E. Instytucje finansowe osiągają wielki zysk z pożyczek udzielanych przedsiębiorstwom

**4. Którym z poniższych wyrazów można najtrafniej zastąpić słowo “zaspokoić” (wiersz 3)?**

- A. Napotkać
- B. Osłabić
- C. Realizować
- D. Wprowadzić
- E. Usprawiedliwić

*Odpowiedz na pytania na podstawie informacji lub opinii znajdujących się w zaprezentowanym tekście.*

*Należy wybrać jedną lub większą liczbę najwłaściwszych odpowiedzi z tych, które zostały zaproponowane.*

*Gdy pytania wymagają wyboru większej liczby poprawnych odpowiedzi niż jedna, wyraźnie wskazano liczbę wymaganych odpowiedzi.*

*Poprawną odpowiedź lub odpowiedzi wskaż zaczynając odpowiednio kółka: A, B, C, D lub E.*

## Formularz odpowiedzi

1.	<input type="radio"/>	A	<input type="radio"/>	B	<input type="radio"/>	C	<input type="radio"/>	D	<input type="radio"/>	E
2.	<input type="radio"/>	A	<input type="radio"/>	B	<input type="radio"/>	C	<input type="radio"/>	D	<input type="radio"/>	E
3.	<input type="radio"/>	A	<input type="radio"/>	B	<input type="radio"/>	C	<input type="radio"/>	D	<input type="radio"/>	E
4.	<input type="radio"/>	A	<input type="radio"/>	B	<input type="radio"/>	C	<input type="radio"/>	D	<input type="radio"/>	E

# Analiza Danych Liczbowych NMT4

1. Który dział odnotuje największy przychód ze sprzedaży w 4. roku i w 5. roku łącznie, jeśli prognozy okażą się trafne?

- A. odzież męska      B. odzież damska      C. artykuły elektryczne  
D. restauracja      E. artykuły gospodarstwa domowego

2. Jak duży przychód przyniosła sprzedaż klocków w 4. roku?

- A. 22 500 £      B. 25 000 £      C. 225 000 £  
D. 275 000 £      E. 2 500 000 £

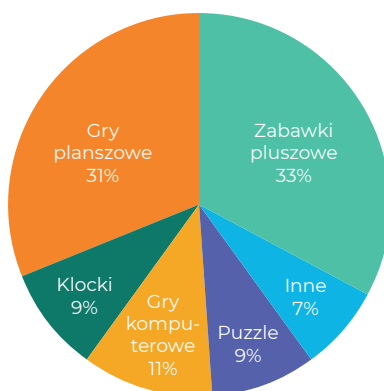
3. Jaki będzie przewidywany zysk brutto pod koniec 5. roku w porównaniu z zyskiem brutto w końcu 4. roku?

- A. o 2,5 mln £ wyższy      B. o 1,5 mln £ wyższy  
C. o 0,5 mln £ wyższy      D. taki sam      E. nie można powiedzieć

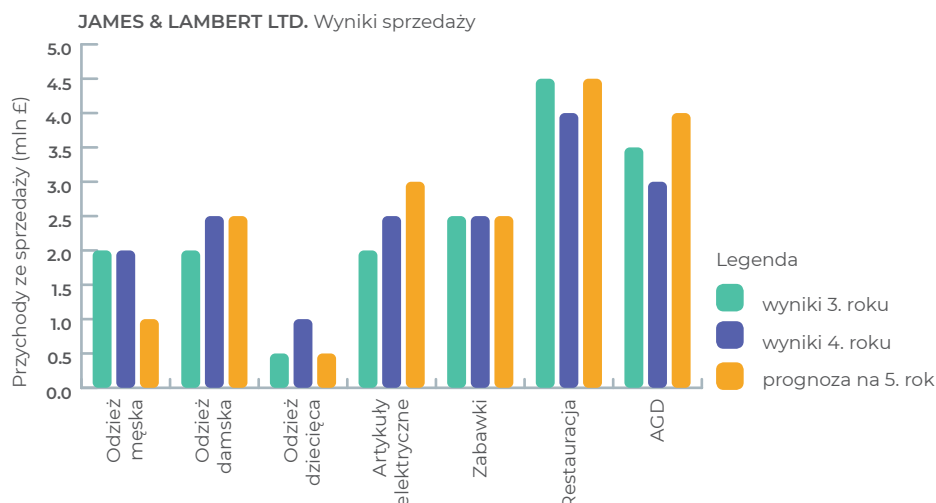
Wybierz jedną poprawną odpowiedź z pięciu podanych, wykorzystując dane przedstawione w formie graficznej.

Wskaż poprawną odpowiedź, zaznaczając odpowiednie kółko A, B, C, D lub E.

JAMES & LAMBERT LTD. Rachunek zysków i strat	Koniec 4. roku (tys. £)	Koniec 3. roku (tys. £)
Przychody ze sprzedaży	17 500	17 000
Koszty zakupu towarów	(12 100)	(11 200)
Zysk brutto	5 400	5 800
Koszty administracyjne	(2 100)	(1 800)
Koszty dystrybucji	(260)	(425)
Zysk operacyjny	3 040	3 575
Inne przychody	200	60
Zysk przed opodatkowaniem	3 240	3 635



Uwaga: liczby w nawiasach oznaczają wartości ujemne



## Formularz odpowiedzi

1.  A  B  C  D  E
2.  A  B  C  D  E
3.  A  B  C  D  E

# Poprawne odpowiedzi

---

## Analiza Danych Liczbowych NMT2

---

1.  A  B  C  D  E
2.  A  B  C  D  E
3.  A  B  C  D  E
4.  A  B  C  D  E

## Analiza Informacji Słownych VMT3

---

1.  A  B  C  D  E
2.  A  B  C  D  E
3.  A  B  C  D  E
4.  A  B  C  D  E

## Analiza Danych Liczbowych NMT4

---

1.  A  B  C  D  E
2.  A  B  C  D  E
3.  A  B  C  D  E